

9. Какой из перечисленных заповедников располагается в Северном Ледовитом океане?

- а) СихотэАлинский; в) Кандалакшский; Кроноцкий
б) Окский; д) г) Врангеля.

10. Выберите 5 причин отсутствия древесной растительности в пустыне:

- а) Сильные ветры
б) Жаркое лето
в) Хозяйственная деятельность человека
г) Избыточное увлажнение

д) Тонкий снежный покров
е) Недостаток влаги
ж) Высокое атмосферное давление

11. Определите соответствие между морями и их особенностями:

Охотское	Лаптевых	Черное	Берингово

- 1) Самое большое по площади
2) Самое маленькое по площади 5) Незамерзающее
3) Самое глубокое 6) Самое пресное.
4) Самое мелкое

**12. Из какого района началось
Оледенение на европейской территории
нашей страны?**

- а) Алтай;
б) Земля Франца - Иосифа;
в) со Скандинавских гор;
г) плато Путорано

13. Какие из перечисленных характеристик полупустынной зоны России являются правильными?

- а) Современная южная граница полупустыни полностью совпадает с Северным полярным кругом; в) сайгак — это самый крупный обитатель полупустынной зоны;
б) для полупустынной зоны характерно жаркое и сухое лето; г) в полупустынной зоне преобладает древесная растительность.

14. Расположите города России в той последовательности, в которой их жители встречают Новый год.

- А) Калининград Б) Кемерово В) Челябинск Г) Хабаровск

15. К антропогенным ландшафтам относятся

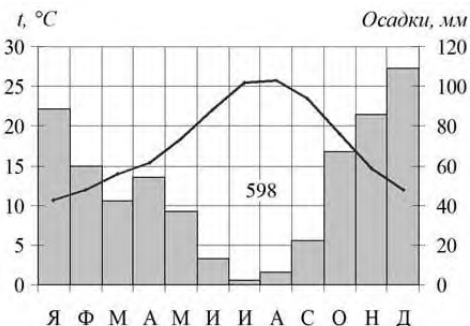
- А) деревня Б) водохранилища В) пастбище Г) река

16. Бассейны, каких из перечисленных рек располагаются на европейской территории страны?

- А) Волга; Б) Индигирка; В) Колыма; Г) Кама; Д) Дон.

Демоверсия

Годовая проверочная работа по географии 8 класс

- 1. Какое место по площади занимает Россия?**
А) 1 Б) 2 в) 3
- 2. Какому океану принадлежит самое глубокое море России?**
А) Северный Ледовитый Б) Тихий В) Атлантический
- 3. Какое озеро России (из предложенных) самое северное?**
А) Таймыр Б) Каспийское В) Байкал Г) Ладожское
- 4. Какие горы старше по возрасту?**
А) Алтай Б) Кавказ В) Горы Камчатки Г) Верхоянский хребет
- 5. Какие почвы формируются в смешанных лесах?**
А) Черноземы Б) Подзолистые В) Серые лесные Г) Каштановые
- 6. В честь отважного путешественника и исследователя Е. Хабарова назван(о):**
А) озеро Б) горы В) город Г) море
- 7. Какой город расположен в области резко континентального климата?**
А) Магадан Б) Красноярск В) Чита Г) Калининград
- 8. Работа с климатограммой. В каком месяце выпало большее количество осадков?**


Климатограмма показывает температуру (линия) и количество осадков (столбчатая диаграмма) по месяцам. Температурная шкала (°C) на левом осях: 0, 5, 10, 15, 20, 25, 30. Шкала осадков (мм) на правом осях: 0, 20, 40, 60, 80, 100, 120. Температурная линия имеет максимум в июле (около 26°C) и минимум в январе (около 10°C). Столбчатая диаграмма осадков имеет максимум в декабре (около 110 мм) и минимум в июле (около 10 мм). Общая сумма осадков за год обозначена как 598 мм.

Месяц	Температура, °C	Осадки, мм
Я	10	22
Ф	11	15
М	12	10
А	14	14
М	16	9
И	18	3
И	20	1
А	22	2
С	24	5
О	25	17
Н	23	22
Д	12	110
- 9. Как называется максимальная вершина Кавказских гор?**
- 10. На берегу какой реки расположен город Якутск?**
- 11. Назовите крайнюю южную точку России.**
- 12. Расположите реки по их расположению с запада на восток**
А) Яна Б) Амур В) Лена Г) Печора
- 13. Распределите города в той последовательности, в которой жители встречают Новый год.**
А) Ижевск Б) Тюмень В) Чита Г) Краснодар Д) Хабаровск
- 14. С какими странами граничит Россия?**
А) Казахстан Б) Армения В) КНР Г) Южная Осетия Д) Швеция

15. Какие животные не обитают в тайге?

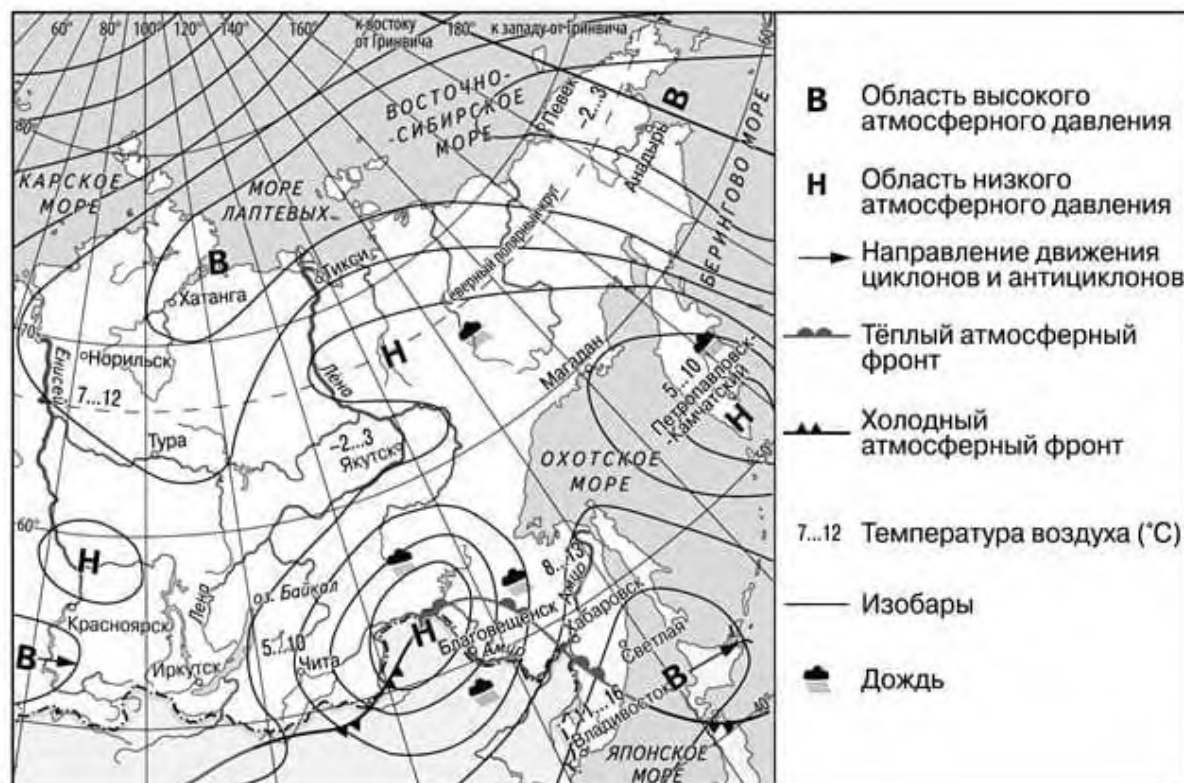
А) Лиса Б) Олень В) Белка Г) Белый медведь Д) Овцебык

16. Как называется озеро, на котором произошла битва Александра Невского?

17. Расположите острова по площади от большего к наименьшему:

А) Сахалин Б) Командорские В) Врангеля

18- 19 Работа с картой



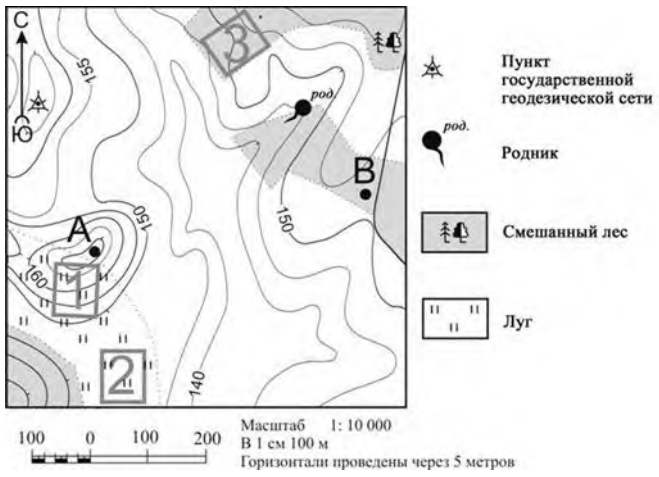
18. Какой из перечисленных населённых пунктов, показанных на карте, находится в зоне действия антициклона?

А) Магадан Б) Петропавловск-Камчатский В) Хатанга Г) Чита

19. Карта погоды составлена на 7 сентября. В каком из перечисленных населённых пунктов, показанных на карте, на следующий день наиболее вероятно существенное потепление?

А) Благовещенск Б) Светлая В) Владивосток Г) Норильск

20. По плану местности определите в каком направлении от родника находится пункт государственной геодезической сети



**ДОКУМЕНТ ПОДПИСАН
ЭЛЕКТРОННОЙ ПОДПИСЬЮ**

СВЕДЕНИЯ О СЕРТИФИКАТЕ ЭП

Сертификат 527227426247742686294735902159890388589213147299

Владелец Великов Андрей Владимирович

Действителен с 16.09.2025 по 16.09.2026